

Тема 3 Основы теории движения автомобиля

Содержание:

- 1. Начало движения и маневрирование. Способы маневрирования.**
- 2. Расположение транспортных средств на проезжей части дороги.**
- 3. Скорость движения и дистанция.**
- 4. Остановка и стоянка транспортных средств.**

Задание для студентов.

Ответить на контрольные вопросы, дав подробный комментарий.

Используемые источники:

ПРАВИЛА дорожного движения Российской Федерации с иллюстрациями. 2020г.

Вопрос 1



Вы имеете право выполнить разворот:

1. Только по траектории А
2. Только по траектории Б
3. По любой траектории из указанных

Комментарий

Вопрос 2



В каких направлениях Вам можно продолжить движение по левой полосе на грузовом автомобиле с разрешенной максимальной массой не более 3,5 т?

1. Только прямо
2. Прямо и направо
3. Прямо, налево и в обратном направлении

Комментарий

Вопрос 3

Разрешено ли водителю движение задним ходом для посадки пассажира на этом участке дороги?



1. Разрешено
2. Разрешено, если водитель управляет легковым такси
3. Запрещено

Комментарий

Вопрос 4

Вы имеете право продолжить движение на перекрестке:



1. Только в направлении В
2. В направлениях А и В
3. Во всех указанных направлениях, кроме Г

Комментарий

Вопрос 5

Как Вам следует действовать, выезжая с места стоянки одновременно с другим автомобилем?



1. Уступить дорогу
2. Проехать первым
3. По взаимной договоренности с водителем этого автомобиля

Комментарий

Вопрос 6

Вам можно продолжить движение при повороте налево:



1. Только по траектории А
2. Только по траектории В
3. По любой траектории из указанных

Комментарий

Вопрос 7

По какой траектории Вам разрешается выполнить поворот налево?



1. Только по А
2. Только по Б
3. По любой из указанных

Комментарий

Вопрос 8

Двигаясь по левой полосе, водитель намерен перестроиться на правую.

На каком из рисунков показана ситуация, в которой он обязан уступить дорогу?



1. На левом
2. На правом
3. На обоих

Комментарий

Вопрос 9

Водитель легкового автомобиля должен выключить указатели левого поворота:



1. После перестроения на левую полосу
2. После опережения грузового автомобиля
3. После возвращения на правую полосу

Комментарий

Вопрос 10

Когда следует включать указатели поворота?

1. Непосредственно перед поворотом или разворотом
2. Заблаговременно до начала выполнения маневра
3. По своему усмотрению

Комментарий

Вопрос 11

По какой полосе Вы имеете право двигаться с максимальной разрешенной скоростью вне населенных пунктов?



1. Только по правой
2. Только по левой
3. По любой

Комментарий

Вопрос 12

В каких направлениях Вам разрешается продолжить движение по крайней левой полосе на грузовом автомобиле с разрешенной максимальной массой более 3,5 т?



1. Только налево
2. Налево и в обратном направлении
3. Прямо, налево и в обратном направлении

Комментарий

Вопрос 13

Каковы Ваши действия в данной ситуации?



1. Объедете грузовой автомобиль справа по обочине
2. Продолжите движение только после того, как грузовой автомобиль освободит полосу движения
3. Допускаются оба варианта действий

Комментарий

Вопрос 14

Разрешается ли Вам, управляя грузовым автомобилем с разрешенной максимальной массой более 3,5 т, выехать на третью полосу в данной ситуации?



1. Разрешается
2. Разрешается только для поворота налево или разворота
3. Разрешается только для опережения
4. Запрещается

Комментарий

Вопрос 15

Можно ли Вам выехать на крайнюю левую полосу в данной ситуации?



1. Можно
2. Можно, если гужевая повозка движется со скоростью не более 30 км/ч
3. Нельзя

Комментарий

Вопрос 16

Разрешается ли Вам двигаться на грузовом автомобиле по этой полосе?



1. Разрешается
2. Разрешается, если разрешенная максимальная масса автомобиля не более 7,5 т
3. Запрещается

Комментарий

Вопрос 17

Разрешено ли Вам после опережения первого автомобиля продолжить движение по левой полосе вне населенных пунктов?



1. Разрешено
2. Разрешено, если Вы намерены опередить второй автомобиль
3. Запрещено

Комментарий

Вопрос 18

По какой полосе Вам можно продолжить движение в населенном пункте после опережения грузового автомобиля?



1. Только по правой
2. Только по левой
3. По любой

Комментарий

Вопрос 19

Можно ли Вам продолжить движение по средней полосе после опережения автомобиля, движущегося по правой полосе?



1. Можно
2. Можно только при отсутствии встречного транспорта
3. Нельзя

Комментарий

Вопрос 20

Можно ли Вам, управляя грузовым автомобилем с разрешенной максимальной массой более 3,5 т, осуществить опережение в данной ситуации?



1. Можно
2. Можно, если разрешенная максимальная масса автомобиля не более 7,5 т
3. Нельзя

Комментарий

Вопрос 21

Какие из указанных знаков разрешают движение со скоростью 60 км/ч?



А



Б



В

1. Только Б
2. Б и В
3. Все

Комментарий

Вопрос 22

О чем информируют эти знаки?



1. Разрешенная скорость не более 40 км/ч при влажном покрытии
2. Рекомендуемая скорость 40 км/ч при влажном покрытии
3. Рекомендуемая скорость не более 40 км/ч только во время дождя

Комментарий

Вопрос 23

С какой скоростью Вы можете продолжить движение вне населенного пункта по левой полосе на грузовом



автомобиле с разрешенной максимальной массой более 3,5 т?

1. Не более 50 км/ч
2. Не менее 50 км/ч и не более 70 км/ч
3. Не менее 50 км/ч и не более 90 км/ч

Комментарий

Вопрос 24

С какой максимальной скоростью Вы имеете право продолжить



движение вне населенных пунктов на автобусе, не относящемся к междугородним или маломестным?

1. 60 км/ч
2. 70 км/ч
3. 80 км/ч
4. 90 км/ч

Комментарий

Вопрос 25

С какой максимальной скоростью Вы имеете право продолжить движение на междугороднем или маломестном автобусе?



1. 70 км/ч
2. 90 км/ч
3. 110 км/ч

Комментарий

Вопрос 26

С какой максимальной скоростью имеет право двигаться водитель грузового автомобиля?



1. 60 км/ч
2. 70 км/ч
3. 80 км/ч

Комментарий

Вопрос 27 С какой максимальной скоростью Вы имеете право продолжить движение на грузовом автомобиле с разрешенной максимальной массой более 3,5 т?



1. 60 км/ч
2. 70 км/ч
3. 90 км/ч

Комментарий

Вопрос 28 С какой скоростью Вы имеете право продолжить движение в населенном пункте по левой полосе?



1. Не более 40 км/ч
2. Не более 60 км/ч
3. Не менее 40 км/ч и не более 60 км/ч

Комментарий

Вопрос 29

С какой максимальной скоростью Вы имеете право продолжить движение вне населенных пунктов, если перевозите людей в кузове грузового автомобиля с разрешенной максимальной массой более 3,5 т?



1. 60 км/ч
2. 70 км/ч
3. 90 км/ч

Комментарий

Вопрос 30

С какой максимальной скоростью разрешается продолжить движение при буксировке неисправного механического транспортного средства?



1. 50 км/ч
2. 70 км/ч
3. 90 км/ч

Комментарий

Вопрос 31

Можно ли остановиться для посадки пассажира за знаком?



1. Можно
2. Можно только на маломестном автобусе
3. Нельзя

Комментарий

Вопрос 32

Разрешается ли Вам продолжить движение в прямом направлении на транспортном средстве подкатегории «С1» без прицепа?



1. Разрешается
2. Разрешается, если Вы обслуживаете предприятие, находящееся в обозначенной знаком зоне
3. Запрещается

Комментарий

Вопрос 33

Разрешено ли Вам ставить автомобиль на стоянку в этом месте по четным числам месяца?



1. Разрешено
2. Разрешено только после 19 часов
3. Запрещено

Комментарий

Вопрос 34

Разрешено ли осуществлять посадку (высадку) пассажиров либо загрузку (разгрузку) транспортного средства в зоне действия этого знака?



1. Разрешено
2. Разрешено, если это займет не более 5 минут
3. Запрещено

Комментарий

Вопрос 35

Водители каких маломестных автобусов нарушили правила стоянки?



1. Только автобуса А
2. Только автобуса Б
3. Автобусов А и Б

Комментарий

Вопрос 36

Нарушил ли водитель грузового автомобиля правила стоянки?



1. Нарушил
2. Нарушил, если разрешенная максимальная масса автомобиля более 3,5 т
3. Не нарушил

Комментарий

Вопрос 37

Можно ли Вам остановиться в этом месте для посадки или высадки пассажиров?



1. Можно
2. Можно, если при этом не будут созданы помехи движению маршрутных транспортных средств
3. Нельзя

Комментарий

Вопрос 38

Кто из водителей нарушил правила стоянки?



1. Водители мотоцикла и грузового автомобиля
2. Только водитель грузового автомобиля
3. Никто не нарушил

Комментарий

Вопрос 39

Разрешается ли Вам остановка в этом месте?



1. Разрешается
2. Разрешается только с заездом на тротуар
3. Разрешается, если при этом не будут созданы помехи маршрутным транспортным средствам
4. Запрещается

Комментарий

Вопрос 40

В каком случае водителю разрешается поставить автомобиль на стоянку в указанном месте?



1. Только если расстояние до сплошной линии разметки не менее 3 м
2. Только если расстояние до края пересекаемой проезжей части не менее 5 м
3. При соблюдении обоих перечисленных условий

Комментарий

Вопрос 41

Разрешается ли Вам остановка для посадки пассажира в этом месте?




1. Разрешается
2. Разрешается, если при этом не будут созданы помехи для движения маршрутных транспортных средств
3. Запрещается

Комментарий

Вопрос 42

Кто из водителей нарушил правила стоянки?



1. Оба
2. Только водитель автомобиля А
3. Только водитель автомобиля Б
4. Никто не нарушил

Комментарий

Вопрос 43

Разрешено ли Вам поставить автомобиль на стоянку в этом месте?



1. Разрешено
2. Разрешено, если при этом не будут созданы помехи для движения маршрутных транспортных средств
3. Запрещено

Комментарий

Вопрос 44

В каком из указанных мест Вам можно поставить на стоянку грузовой автомобиль с разрешенной максимальной массой более 3,5 т?



1. Только А
2. Только В
3. А или В
4. В любом

Комментарий

Вопрос 45

Запрещена ли водителю грузового автомобиля остановка в этом месте?

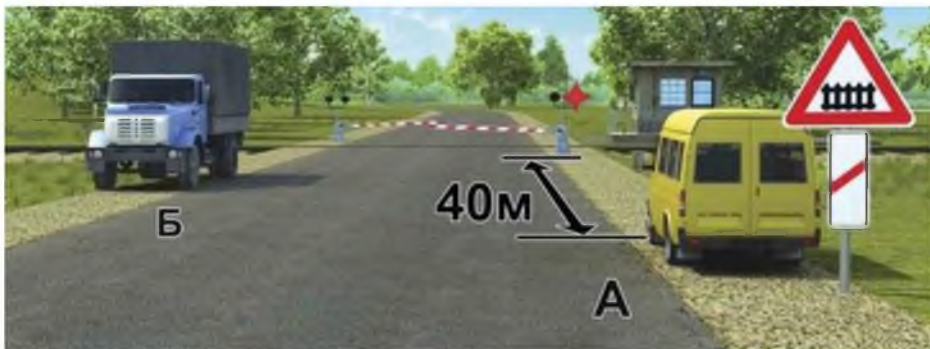


1. Запрещена
2. Запрещена, если расстояние между автомобилем и линией разметки менее 3 м
3. Разрешена

Комментарий

Вопрос 46

Кто из водителей нарушил правила стоянки?



1. Оба
2. Только водитель транспортного средства А
3. Только водитель транспортного средства Б
4. Никто не нарушил

Комментарий

Вопрос 47

Разрешено ли Вам остановиться на мосту в указанном месте?

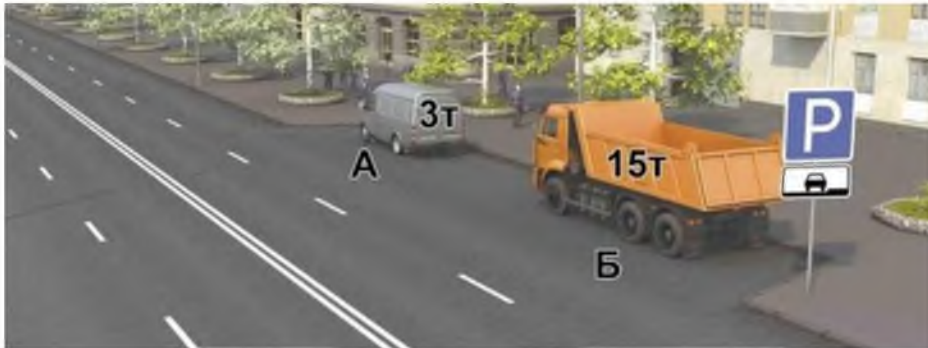


1. Разрешено
2. Разрешено только для высадки пассажиров
3. Запрещено

Комментарий

Вопрос 48

Кто из водителей грузовых автомобилей нарушил правила стоянки?



1. Оба
2. Только водитель автомобиля А
3. Только водитель автомобиля Б
4. Никто не нарушил

Комментарий

Вопрос 49

Разрешено ли водителю грузового автомобиля с разрешенной максимальной массой более 3,5 т остановиться в указанном месте?



1. Разрешено
2. Разрешено только для загрузки или разгрузки
3. Запрещено

Комментарий

Вопрос 50

Можно ли Вам остановиться на грузовом автомобиле с разрешенной максимальной массой более 3,5 т в этом месте?



1. Можно
2. Можно только для загрузки или разгрузки
3. Нельзя